

أجب عن جميع الاسئلة

السؤال الأول: موضوعي يتكون من (أ - ب - ج) :

(أ) ظلل الخيار الصحيح من بين الخيارات التي تلي كل عبارة :


١- الدولة التي استضافت المؤتمرات الثلاثة للمانحين لدعم الوضع الإنساني في سوريا:

مصر	المملكة العربية السعودية	تركيا	الكويت
-----	--------------------------	-------	--------

٢- العام الذي تم فيه إنشاء شرطة البيئة في دولة الكويت:

٢٠١٣ م	٢٠١٤ م	٢٠١٥ م	٢٠١٦ م
--------	--------	--------	--------

٣- نسبة التلوث الهوائي في باكستان الناتج من عوادم السيارات يمثلها الجزء المظلل من الدائرة البيانية:



٤- المنطقة التي أنشأت فيها أول محطة كهرباء تعمل بالطاقة الشمسية في دولة الكويت :

الشقايا	السالمي	الجهراء	الأحمدي
---------	---------	---------	---------

٥- الصورة التي أمامك لعاهل سعودي دعا لإنشاء تجمع يضم الدول الإسلامية:



عبدالله بن عبدالعزيز آل سعود	فهد بن عبدالعزيز آل سعود
فيصل بن عبدالعزيز آل سعود	خالد بن عبدالعزيز آل سعود

السؤال الرابع مقالتي يتكون من (أ - ب - ج) :
(أ) لاحظ الصور ثم أجب عن ما يليها من أسئلة :



اسم المشكلة	
السبب	-

اسم المشكلة	
السبب	-

(ب) فرق بين كل مما يلي :

التدوير	النفقات
-	-
-	-
العولمة	التكامل الاقتصادي
-	-
-	-

(ج) أكتب في ما يلي :

١- الآثار السلبية للتلوث المائي.

٢- التحديات التي تواجه الأقليات الإسلامية حول العالم.

٣- أهم قرارات المؤتمر الإسلامي الخامس.

الدرجة بالحروف
انتهت الأسئلة




السؤال الثالث مقالتي يتكون من (أ - ب - ج) :
(أ) لاحظ الجدول التالي ثم نفذ ما هو مطلوب منك :
أفترق بين كل من:

الدولة	المجموع
باكستان	٩٩,٩٧
سيراليون	٢٨,٠٩
اليمن	٧٠,٠٧
النيجر	١٩,١٣

مجموع معدلات محو الأمية في الدول الأربعة في منطقة الشرق الإسلامي لعام ٢٠٢٠ م

الأمية في البلدان المتقدمة	الأمية في البلدان النامية


٢- حول مجموع معدلات محو الأمية لكل من الدول
(سيراليون - النيجر) إلى أعمدة بيانية



(ب) علل لما يلي :

١- الفقر في الدول الإسلامية.

٢- تعرضت دولة الكويت لتلوث بيئي خطير عام ١٩٩١ م.



(ج) عدد لكل مما يلي :

١- نتائج التلوث الضوضائي.

٢- الهدف من إنشاء الصندوق الكويتي للتنمية الاقتصادية العربية.

٣- نتائج الحرب الأهلية في الصومال عام ١٩٩١ م.



الدرجة بالحروف



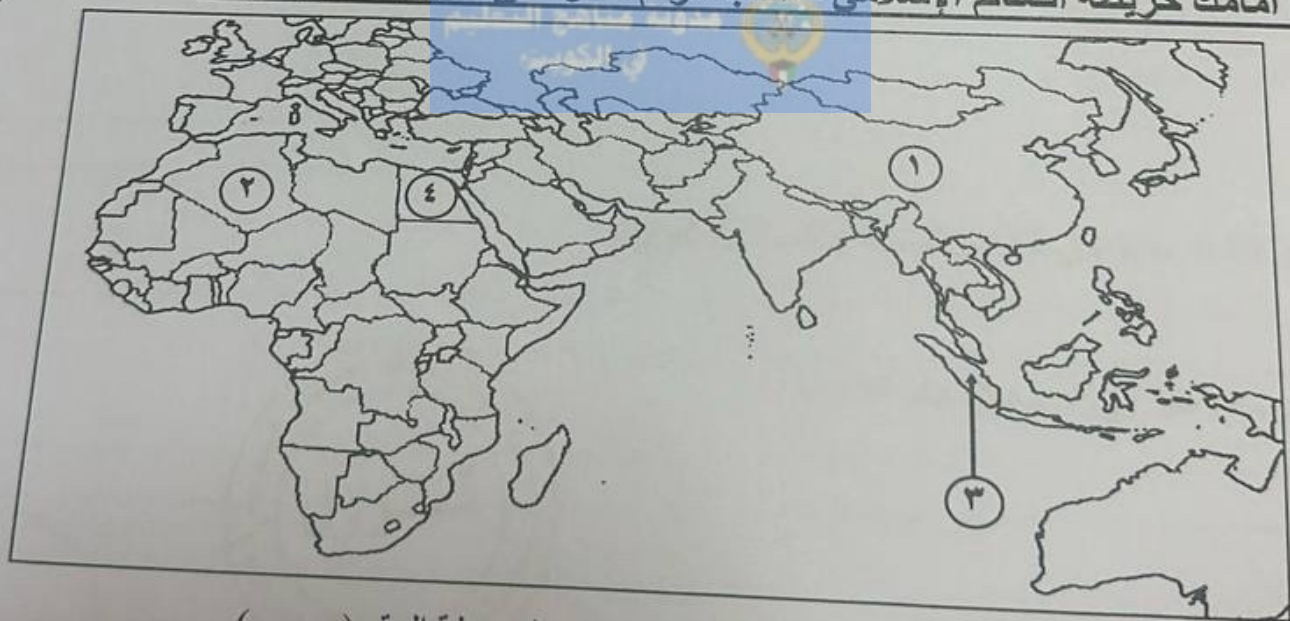
السؤال الثاني موضوعي يتكون من (أ - ب - ج) :
(أ) صحح ما تحته خط في العبارات التالية وذلك بكتابة التصويب في المكان المناسب :

م	العبرة	التصويب
١	الحرب التي شنتها قوات التحالف في ١٧ يناير ١٩٩١م لتحرير الكويت اسمها <u>صقور الجو</u>	
٢	نسبة السكان الذين يعيشون تحت مستوى خط الفقر في العالم الإسلامي ٤٠%	
٣	عاصمة تعتبر نموذجاً للتلوث الضوضائي في العالم الإسلامي <u>بغداد</u> .	
٤	الغاز الأول المسؤول عن الاحتباس الحراري في العالم <u>النيتروجين</u> .	
٥	دولة أفريقية عانت من شدة التلوث المائي عام ٢٠١٧م <u>النيجر</u> .	
٦	بدأت القضية الفلسطينية عقب الحرب العالمية الثانية.	

(ب) أكمل العبارات التالية بما يناسبها فيما درست :

- ١- الشيخ الذي تم اختياره كقائد للعمل الإنساني اسمه
- ٢- المدينة التي يقع فيها مقر وكالة الأنباء الإسلامية الدولية (إينا) اسمها
- ٣- بطلة كويتية ساهمت في إطفاء حرائق النفط الناجمة عن الغزو العراقي الغاشم اسمها
- ٤- قوات قامت بإبادة المسلمين وتعذيبهم في حرب البوسنة اسمها
- ٥- دولة خليجية سجلت أعلى معدل في إمام البالغين في القراءة والكتابة اسمها
- ٦- زحف رمال الصحراء على المناطق الجافة والشبه جافة يسمى

(ج) أمامك خريطة العالم الإسلامي - أكتب الرقم الدال على العبارات التي تليها :



- ١- لة حققت التكامل الاقتصادي في مجال الزراعة يمثلها على الخريطة الرقم (.....)
- ٢- لة تمتلك الأيدي العاملة اللازمة لتحقيق التكامل الاقتصادي يمثلها على الخريطة الرقم (.....)
- ٣- لة تعاني فيها الأقلية المسلمة من محاولات طمس هويتهم الثقافية يمثلها على الخريطة الرقم (.....)

الدرجة بالحروف

تابع السؤال الأول (موضوعي) :

(ب) صنف الأحداث التالية ما بين القوسين حسب المكان المناسب لها في الجدول التالي:

(الهجوم على مركز الصامطة - اتفاقية الحماية - مؤتمر العقير - ادعاءات عبد الكريم قاسم)

١٨٩٩م	١٩٢٢م	١٩٦١م	١٩٧٣م
اتفاقية الحماية	مؤتمر العقير	ادعاءات عبد الكريم قاسم	مركز الصامطة

(ج) أكمل المخططات السهمية التالية :



١- الجهات الحكومية التي تشرف على المساعدات الخارجية

بمساعدة الزكاة

الصندوق الكويتي

جمعية الهلال الأحمر

وزارة الخارجية

* كمسألة اختيارية
الإسلامية العالمية

٢- أجهزة منظمة التعاون الإسلامي

محكمة العدل
الإسلامية الدولية

الأمانة العامة

مجلس الوزراء
الخارجية

القسم الإسلامي

٣- المصادر البشرية للتلوث البيئي

رش المبيدات الحشرية
على المزروعات

الكروب

النفايات الناتجة عن
التطور الصناعي

التلوث الجوي

- الاستخدام
المفرط
للاستحارة

- الانفجارات
النووية

الدرجة بالحروف